

A partir de l'emplacement matérialisé par l'étoile rouge sur cet extrait de carte, et en suivant une valeur d'azimut de **162°**, vers quel lieu-dit se dirige t'on ?

RAPPEL Etape 1 sur la carte : aligner le point de départ avec la direction à prendre, en prenant soin de prendre cette direction dès le début du chemin et faire coïncider le bord de la plaquette de la boussole avec cette direction.

Etape 2 sur la carte : maintenir la plaquette de la boussole immobile, et tourner le cercle gradué de la boussole de façon à ce que le "N" (Maison du Nord), pointe vers le haut de la carte. Les lignes ou repères d'orientation, gravées dans le fond du cadran mobile, doivent être parallèles à un méridien ou éventuellement au bord de la carte.

Etape 3 sur la carte : la valeur indiquée en regard de la flèche de direction est l'azimut. Cette valeur s'exprime en degrés.

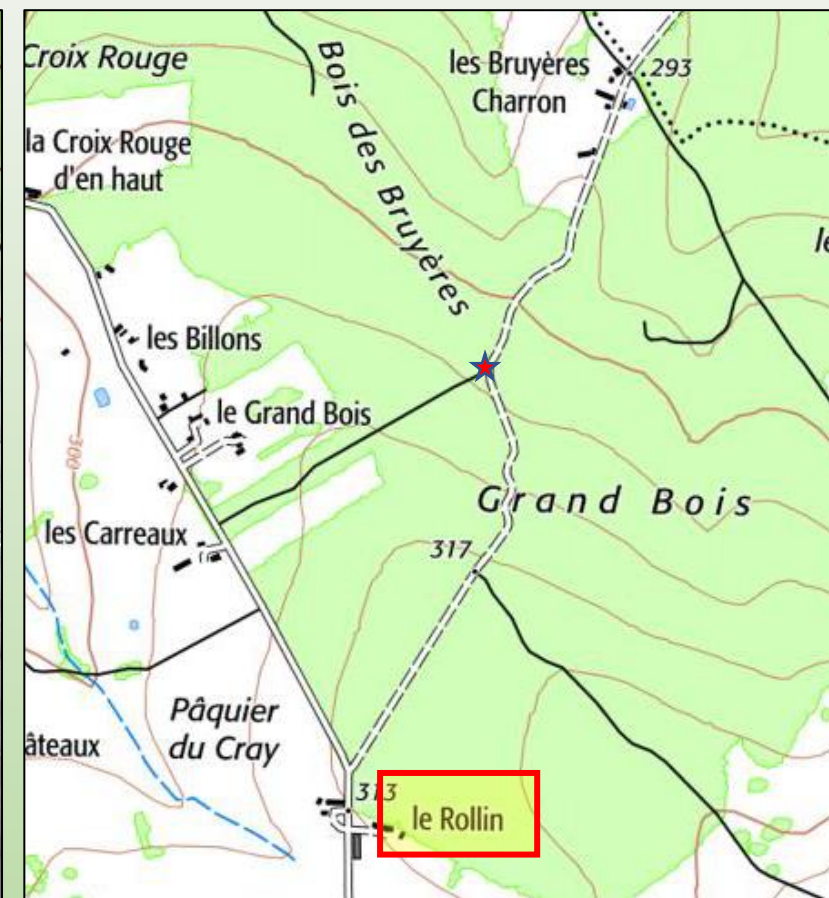
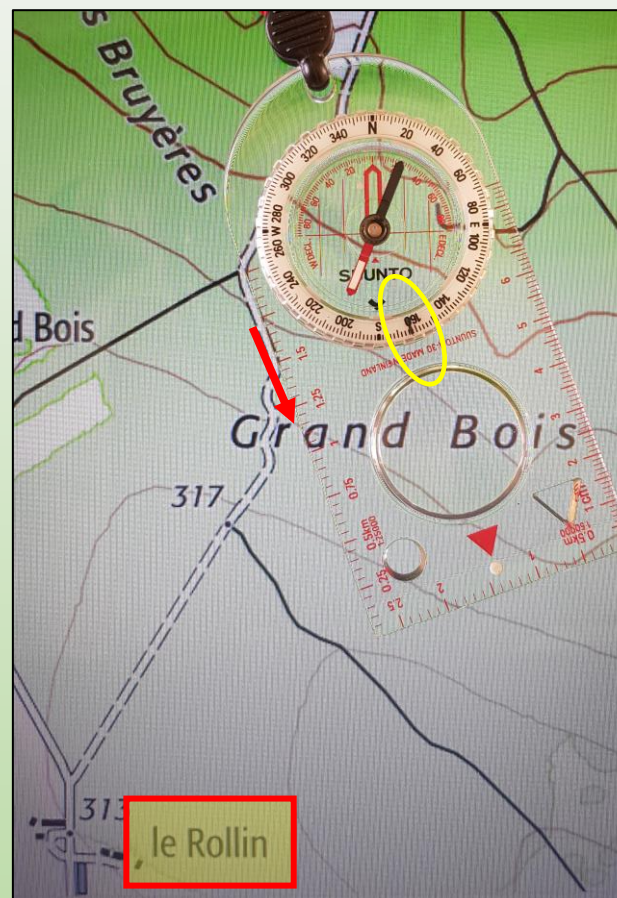
Nota bene : l'aiguille aimantée n'a aucune utilité lors du relevé d'un azimut sur la carte, le nord servant de référence étant toujours en haut de la carte.

Cochez la bonne réponse

Les Carreaux

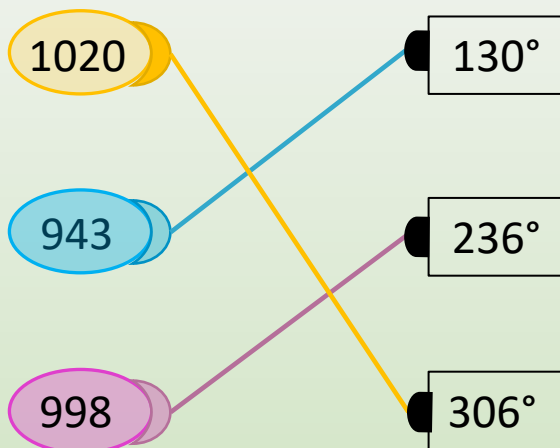
Le Rollin 162 °

Les Bruyères Charron



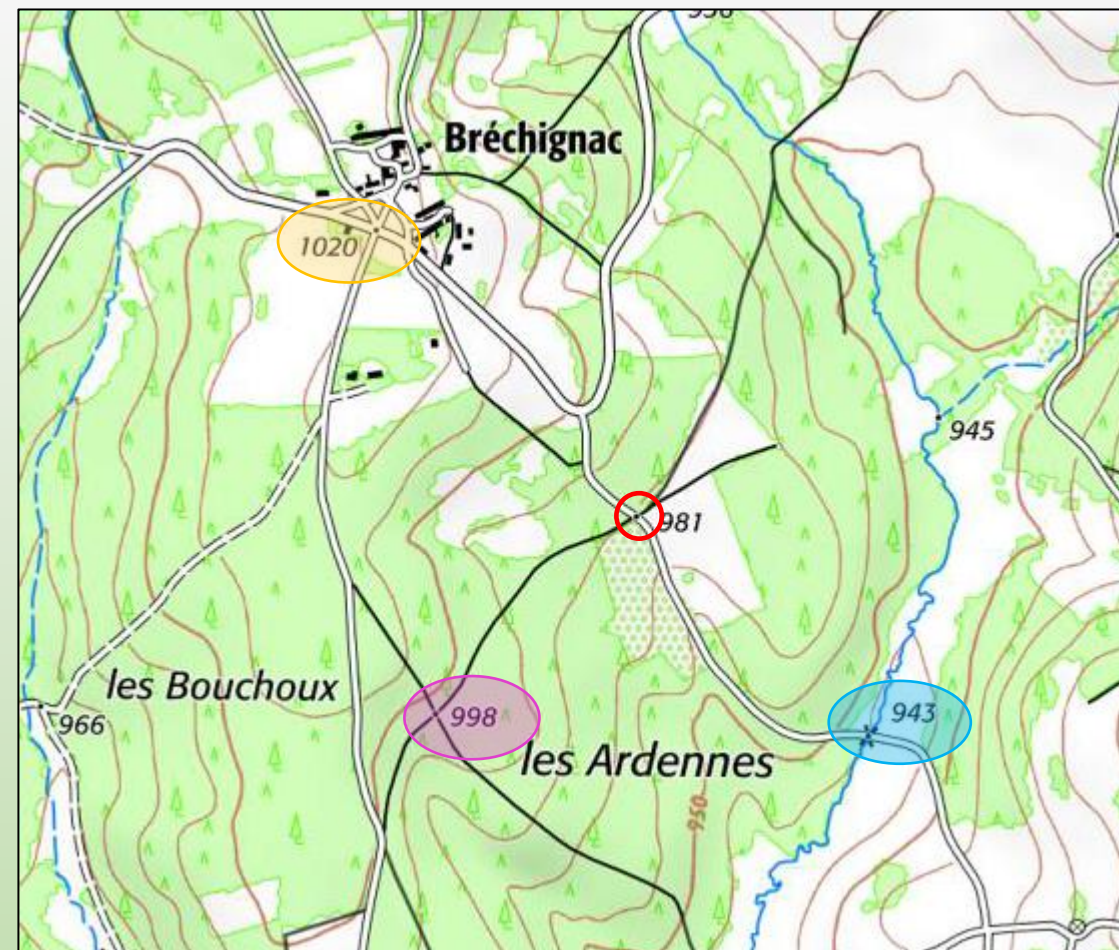
A partir du point de départ situé **au centre du cercle rouge** sur l'extrait de carte, reliez chaque valeur d'azimut à la direction de son **point coté*** respectif

Cochez la bonne réponse



Pour cette opération, il faut se servir de la **boussole** comme d'un **rappporteur** pour relever l'angle

Nota bene : lors de cette manipulation de la mesure d'azimut sur la carte, on se sert donc de la boussole comme **d'un rapporteur** pour relever l'angle (l'aiguille aimantée ne servant aucunement lors de cette étape)



* **Point coté** : altitude mentionnée sur un point de la carte

Se diriger avec la boussole : de la carte vers le terrain

Ce randonneur dubitatif et perplexe, mais heureux, longeait la lisière du bois **surlignée en rouge**.

A un moment donné, en étant **distract**, il s'est engagé dans un chemin forestier, et à présent, il ne sait plus sur quelle voie il se trouve ?

Sur le terrain, il prend alors **l'azimut du chemin** à partir de l'endroit où il se trouve et **en direction de la limite de la forêt domaniale** et lit une valeur de **34°**

Sur quel chemin ce randonneur marche t'il ?

Cochez le bon numéro de chemin

- | | | | | |
|--------------------------|--------------------------|--------------------------|-------------------------------------|--------------------------|
| 1 | 2 | 3 | 4 | 5 |
| <input type="checkbox"/> | <input type="checkbox"/> | <input type="checkbox"/> | <input checked="" type="checkbox"/> | <input type="checkbox"/> |

34°

