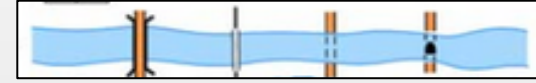


L'hydrographie : couleur bleue sur la carte IGN

Sur la carte IGN 25000^{ème}, le bleu représente tout ce qui concerne l'hydrographie (eau, glace) : mer, lacs, étangs, rivières, canaux, sources, puits, lavoirs, château d'eau ...

Pont. Passerelle. Gué. Bac : autos, piétons _____



Source, fontaine. Citerne, lavoir. Bassin. Château d'eau. Réservoir _____



Source. Fontaine. Puits. Citerne. Château d'eau. Réservoir _____

Quelques variantes de symboles en fonction de l'édition des cartes



Nappe d'eau permanente. Zone inondable, marais. Cascade. Barrage. Digue _____



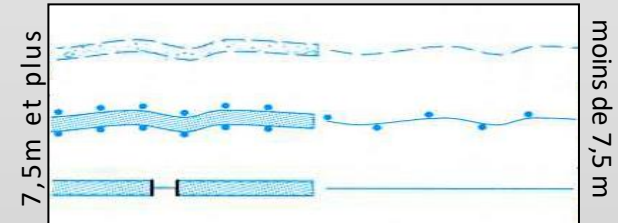
Cours d'eau temporaire. Phare. Feu. Balise _____



Canal navigable, d'alimentation. Écluse. Canal souterrain _____




Cours d'eau temporaire _____




Cours d'eau permanent bordé d'arbres _____

Canal. Écluse _____



Aqueduc. Conduite forcée. _____

Phare. Feu. Bateau-feu. Épave. Sémaphore. Balise _____



Sable et dune (1). Laisse des plus hautes mers (2)

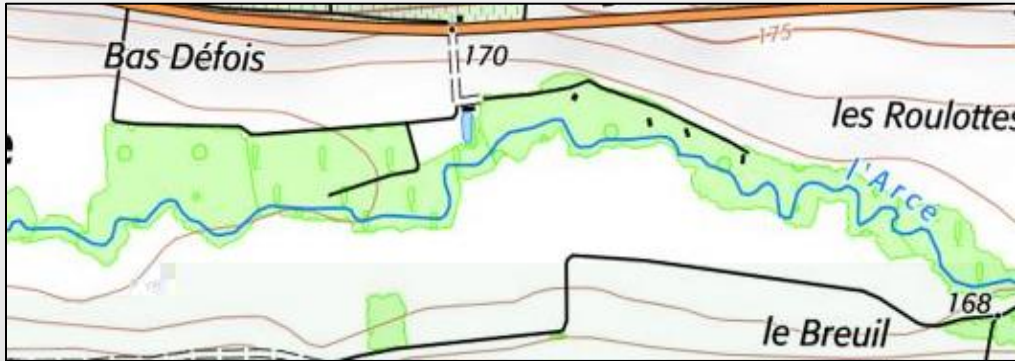
Estran : sables (3), rochers (4), zone inondable (5)

Courbes bathymétriques : issues des cartes du S.H.O.M. (6)



L'hydrographie : couleur bleue sur la carte IGN

Quelle est la différence entre les 3 cours d'eau représentés sur ces extraits de carte ?




Pour chacun d'entre eux, est t'il est possible de le traverser à pied ?

- oui
- non
- ça dépend

- oui
- non
- ça dépend

- oui
- non
- ça dépend

L'hydrographie : couleur bleue sur la carte IGN



Associez chaque photo représentant **un étang** à son extrait de carte. Aidez vous de la végétation, du type de digue et de l'environnement.

