

Quizz 15 Saison 2 – correction - Relief "peigne" - samedi 28 novembre

La carte de randonnée

Sur les 6 croquis ci-dessous, lequel schématise le sentier sur la photo ?

(le sentier étant représenté par le trait noir)

Cochez la bonne réponse







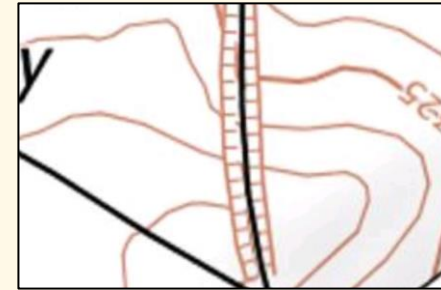


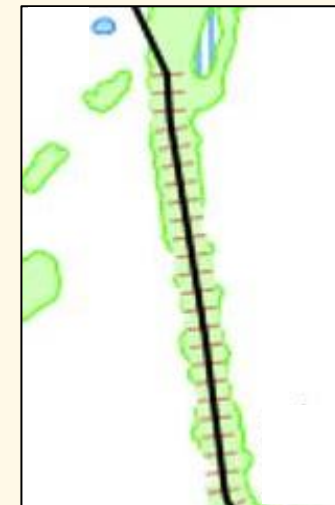


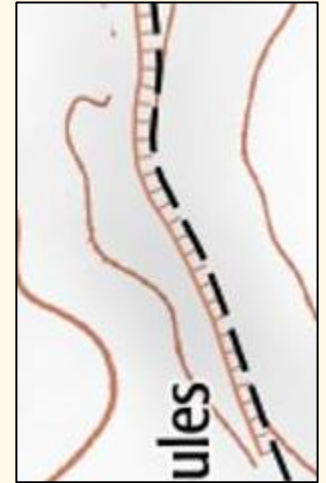


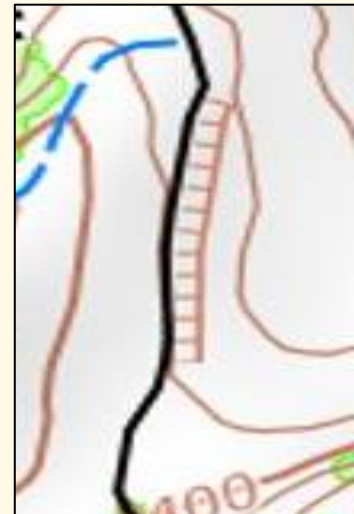
Sur les 4 extraits de carte ci-dessous, lequel correspond au sentier sur la photo ?

Cochez la bonne réponse









Quizz 15 Saison 2 - Correction - Sommet ou cuvette ? - samedi 27 novembre

Notez dans chaque case vide le type de relief (lettre **S** ou **C**) correspondant au numéro

SOMMET → **S**

CUVETTE → **C**

C	C	C	C	S	S	C	S	C	S	C	S	S	C	C	S	S
1	2	3	4	5	6	7	8	9	10	11	12	13	14	15	16	17

